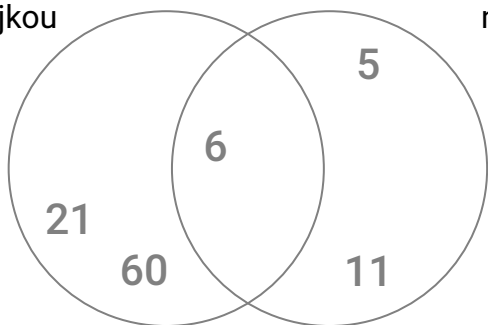


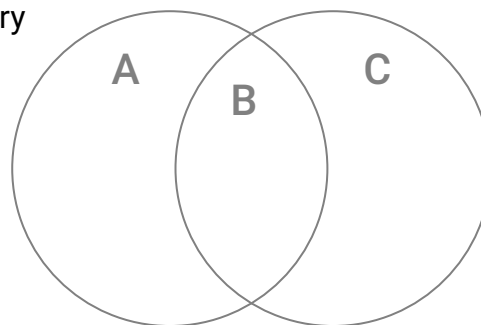
1. Doplňte do diagramu další čísla, aby v každé oblasti diagramu byla alespoň čtyři.

čísla dělitelná trojkou      čísla menší než 14

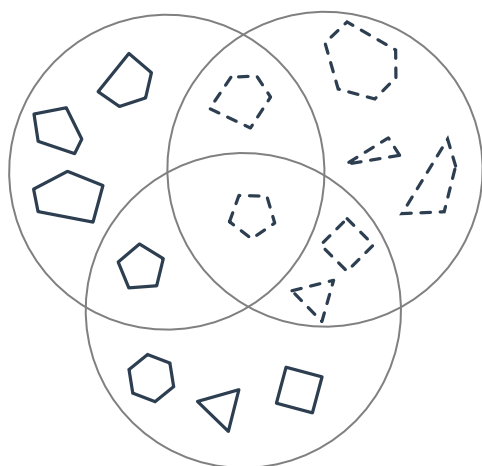


2. Doplňte do diagramu další písmena, aby v každé oblasti diagramu byla alespoň tři.

obsahuje rovné čáry      obsahuje kulaté čáry

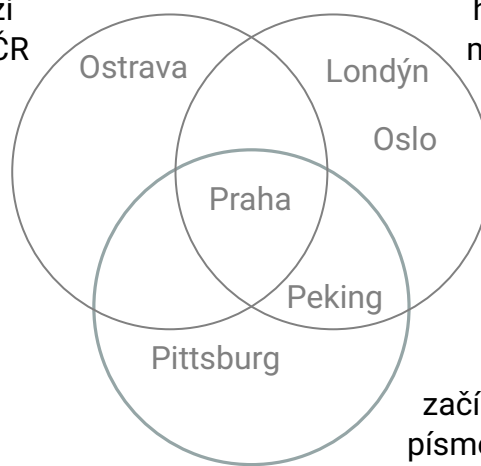


3. Pojmenujte, co je společný rys jednotlivých množin v diagramu.



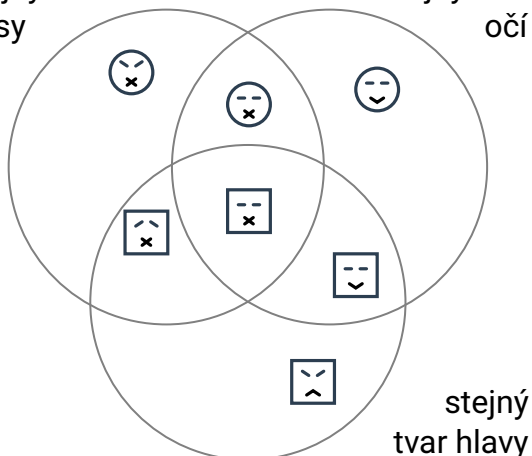
4. Umístěte do digramu následující města: Plzeň, Berlín, Brno, Paříž, Zlín, Pisa.

leží v ČR      hlavní město



5. Dokreslete do různých částí diagramu další 4 obličejce.

stejný tvar pusy      stejný tvar očí



6. Dokreslete chybějící útvar doprostřed.

