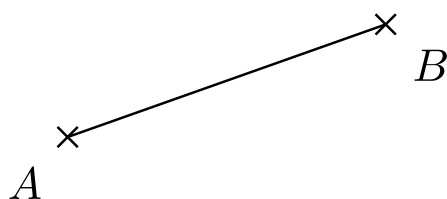
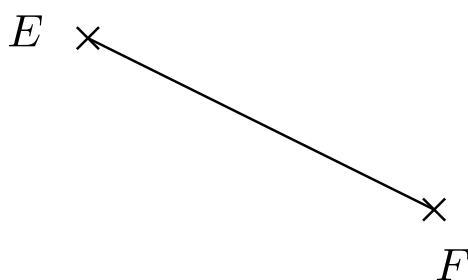



1. Je dána úsečka AB . Sestrojte trojúhelník ABC , je-li dáno $|BC| = 5 \text{ cm}$, $|AC| = 6 \text{ cm}$.



2. Je dána úsečka EF . Sestrojte trojúhelník EFG , pokud je dáno $|\sphericalangle FEG| = 50^\circ$ a $|EG| = 65 \text{ mm}$.



3. Je dána úsečka AB . Sestrojte trojúhelník ABC , pokud je dáno: $\alpha = 30^\circ$, $\beta = 110^\circ$.



4. Je dána úsečka KL . Sestrojte trojúhelník KLM , pokud je dáno $|\sphericalangle KLM| = 35^\circ$ a $|KM| = 3,5$ cm.

